



社 会

2020年度 東京純心女子中学校入学試験

(2日午前 特待生選抜を兼ねる)

解答は解答用紙に記入しなさい。

- 1 以下の、世界遺産を巡る 2019 年の旅日記を読み、あとの問いに答えなさい。
なお、下の地図中の①～⑤は、旅日記に出てくる①～⑤の世界遺産の場所を示している。



8月4日

旅の初日、羽田空港を出発し、**A** へと向かった。ここにはかつて3つの王国が分立していたが、やがてそれらが統一され、(a) 1つの王国が成立 した。この王国は中国・朝鮮・日本・東南アジア諸国との交易で栄え、国際色豊かな独特の文化が発達した。

(b) この王国の城 は戦争で焼失したが、戦後復元が進み、周辺の関連する遺産とともに、① 世界遺産 に指定された。青い空を背景に城の赤色が映えてとても美しく、当時の繁栄した様子が目に浮かぶようだった。

追記 10月31日、城が火事で焼失してしまい大変ショックだ。いつの日か再建され、再びあの美しい姿を見ることを、心から望んでいる。

8月6日

昨日、**A** の空港を出発し、**B** に到着した。今朝、原爆ドーム近くの平和記念公園へ行き、黙禱を捧げた。

B には原爆ドームのほかに、もうひとつ ② 世界遺産 がある。それは、() の島を背にして、その入り江の海のなかに朱色の木造建築が立ち並ぶ、珍しい (c) 神社 である。大鳥居は保存修理工事中のため見ることができず残念だったが、素晴らしい遺産を後世に残すためには必要なことだ。また改めて見に来たい。

8月7日

B を出発し、新幹線で **C** に到着した。この地へ来たのは、7月に③ 世界遺産 に登録された (d) ある遺跡 を見るためである。しかしながらこの遺跡は、あまりに大きすぎるため、近くへ行ってみてもただの森のように見えて、(e) 全体の形 がよくわからなかった。そこで、堺市役所の21階にある展望台から眺めたが、まだ形がよくわからない。飛行機から眺めるのが一番良さそうだ。

8月8日

C を出発し、電車で **D** に到着した。ここには、日本で一番最初に④ 世界遺産 に登録された、世界最古の木造建築がある。それは、正岡子規の俳句、『柿くへば鐘が鳴るなり () 』でも知られている。金堂や五重塔など見所が多く、意外と敷地も広く、気がつけば時間を忘れて2時間以上も歩き回っていた。今度は正岡子規と同じ、秋に来てみたいと思った。また違った雰囲気を楽しみたいと思う。

8月9日

昨夜、夜行バスで **D** から新宿へ、そして今朝、新宿でバスを乗り換えて **E** へ向かった。そこからレンタカーを借りて (**あ**) を北へ進み、さらに (**い**) を進み、目的地に到着した。ここは、(**f**) 約 270 年続いた幕府を開いた人物 がまつられている地であり、その (**g**) 神社 は **㊦** 世界遺産 に登録されている。かわいらしい動物の装飾もあちこちにあり、思わず猿がモチーフのお守りを買ってしまった。

問1 文中の **A** ～ **E** に入る府県名を、以下のア～コより1つずつ選び、それぞれ記号で答えなさい。

- ア. 茨城 イ. 大阪 ウ. 沖縄 エ. 鹿児島 オ. 京都
カ. 栃木 キ. 奈良 ク. 広島 ケ. 兵庫 コ. 山口

問2 8月4日の旅日記について。

- (1) 下線(a)について。この王国の名前を答えなさい。
(2) (1)の王国はやがてある藩の支配を受けるようになるが、その藩名を以下のア～エより1つ選び、記号で答えなさい。
ア. 薩摩藩 イ. 長州藩 ウ. 土佐藩 エ. 肥前藩
(3) 下線(b)について。この城の名前を答えなさい。

問3 8月6日の旅日記について。

- (1) () に入る海の名前を答えなさい。
(2) 下線(c)について。この神社の名前を答えなさい。
(3) (2)で答えた神社は、武士として最初の太政大臣となった人物に信仰され、お経が納められた。この人物とは誰か、答えなさい。
(4) (3)で答えた人物の一族が滅びた戦いを、以下のア～エより1つ選び、記号で答えなさい。
ア. 壇ノ浦の戦い イ. 石橋山の戦い
ウ. 一ノ谷の戦い エ. 屋島の戦い

問4 8月7日の旅日記について。

- (1) 下線(d)について。ある遺跡 とは、7月に世界遺産に登録された遺跡群の中でも最も大きく、全長約500メートルある遺跡である。この遺跡の名前を答えなさい。
(2) 下線(e)について。どのような形か、上から見た形を描きなさい。
(3) 日本各地に(2)と同じ形の遺跡が多数分布しているが、そのことから何がわかるか。以下の語句を用いて、簡潔に説明しなさい。

【大和朝廷】

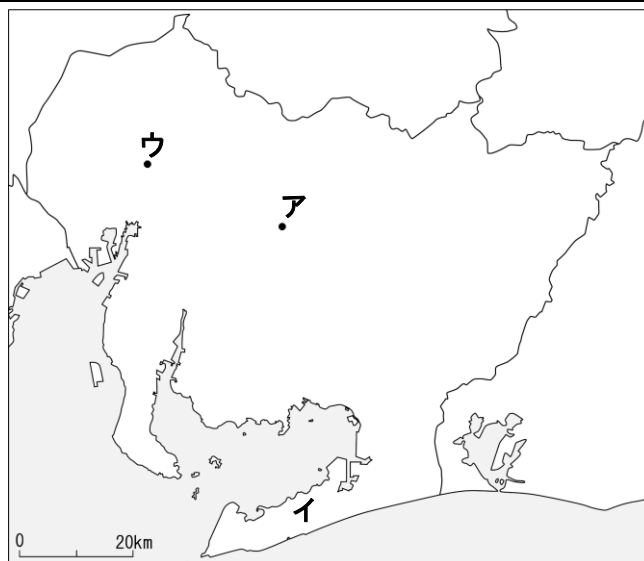
問5 8月8日の旅日記について。

- (1) 文中の()にあてはまる語句を答えなさい。
- (2) (1)の寺を^{こんりゅう}建立したとされる人物は、^{そが}蘇我氏とともに天皇を中心とした政治をめざして政治の改革をすすめたことで知られている。この人物とは誰か、答えなさい。
- (3) (2)の人物が関わっているものは、次のア～エのうちどれか。すべて選び、記号で答えなさい。
- ア. 十七条の憲法 イ. 大化の改新 ウ. 平城京^{せんと}遷都 エ. 遣隋使の派遣^{はけん}

問6 8月9日の旅日記について。

- (1) (**あ**) ・ (**い**) にあてはまる語句の組み合わせとして正しいものを、以下のア～エより1つ選び、記号で答えなさい。
- ア. (**あ**) 東北自動車道 ・ (**い**) ^{にっこうかいどう}日光街道
イ. (**あ**) 東北自動車道 ・ (**い**) ^{おうしゅうかいどう}奥州街道
ウ. (**あ**) 北陸自動車道 ・ (**い**) 日光街道
エ. (**あ**) 北陸自動車道 ・ (**い**) 奥州街道
- (2) 下線(f)について。この人物とは誰か、答えなさい。
- (3) 以下の文を読み、(**ア**) ～ (**ウ**) にあてはまる語句を答えなさい。なお、(**ア**) ～ (**ウ**) は下の地図中にも示している。

(2)で答えた人物の出身地は、今や日本一の工業県として知られている。とくに(**ア**)市を中心に自動車工業が発達している。また、県の南部にある(**イ**)半島などでは、キャベツや菊、メロンの^{さいばい}栽培が盛んである。県庁所在地の(**ウ**)市の人口は、日本で3番目に多く、200万人を超えている。



- (4) 下線(g)の神社の名前を答えなさい。

問7 世界遺産は、1972年に国連^{こくれん}教育科学文化^{きょうがくぶんか}機関^{きかん}で採択された世界遺産条約に基づいて、登録し保護されているものである。国連教育科学文化機関は、カタカナ
4字で何と呼ばれているか答えなさい。

問8 文中の下線②～⑤の世界遺産は、いつの時代のものか。世界遺産が作られた時代順に②～⑤の記号を並べ替えなさい。なお、②については、問3(3)の人物がお経を納めた時代で答えなさい。

【問題は次ページへ続きます】

- 2 次の資料 A, B, C はいずれも 1945 年以降に世界や日本で制定された法や条約の一部を抜き出したものです（原文をやさしい文に書き直しています）。これらを読み、問いに答えなさい。

A

……(ア)われらの一生のうちに2度まで、言葉に表せないほどの悲しみを人類に与えた戦争のいたましい被害から将来の世代を救い、(イ) **あ** と人間の尊厳*1及び価値と男女及び大小各国の同権とに関する信念をあらためて確認し、正義と条約その他の国際法に基づいて生ずる義務の尊重とを維持することができる条件を確立し、一層大きなく **う** > の中で社会的進歩と生活水準の向上とを促進すること、並びにこのために、寛容*2を実行し、かつ、善良な隣人としてたがいに平和に生活し、国際の平和及び安全を維持するためにわれらの力を合わせ、……よって、ここに **い** という国際機構を設ける。

*1人間の尊厳：人間らしくいられること。

*2寛容：心が広く、他人の言動を受け入れる。他人の欠点などを不要にとがめない。

B

第11条 国民は、すべての **あ** を持つことを妨げられず、(ウ)この憲法が国民に保障する **あ** は、おかすことができない永久の権利として、現在および将来の国民に与えられる。

第13条 すべて国民は、< **え** > として尊重される。(エ)生命、< **う** > 及び幸福追求に対する国民の権利については、公共の福祉*3に反しない限り、立法その他の国政の上で、最大の尊重を必要とする。

*3公共の福祉：社会一般に共通する利益や幸福。

C

第1条 女子に対する差別とは、政治的、経済的、社会的、文化的、市民的その他のいかなる分野においても、(オ)女子が、男女の平等を基礎として人権および基本的 **う** > を持つことや使うことを妨げるものをいう。

第2条 女子に対するあらゆる差別を撤廃する政策を適当な手段により追及すること。……

- 問1 資料A、Bの文中の **あ**、**い** に適当な語句を漢字で記入しなさい。ただし、**あ** は5字、**い** は4字で答えなさい。

問2 資料A～Cの文中の< う >、< え > に最も適当な語句を、下記の1～6より選び、番号で答えなさい。

1. 可能性
2. 自由
3. 日本人
4. 富
5. 個人
6. 能力

【資料Aについて】

問3 下線(ア)について。ここに書かれた2度の戦争とは何ですか。1度目、2度目の戦争の名前をそれぞれ答えなさい。

問4 下線(イ)に関して。特に問3であげられた2度目の戦争においては、あや人間の尊厳及び価値が著しく損なわれるようなことが、ヨーロッパでもアジアでも起こりました。たとえばドイツのナチス政権によって、ある民族が著しい差別、弾圧を受け、約600万人もの命が奪われました。この民族を答えなさい。

【資料Bについて】

問5 下線(ウ)について。

- (1) この憲法の名前を答えなさい。
- (2) この憲法に関する次の説明文の(1)～(4)に適当な語句や数字を記入しなさい。

(1) 年11月3日、先の悲惨な戦争の反省を生かし、第9条に示された(2)主義に基づくこの憲法が公布され、翌年の5月3日に施行された。これ以前の憲法では、主権は(3)にあったが、この憲法では(4)にあることが宣言されている。

問6 下線(エ)に関して。このように憲法で保障された国民の権利を、下記の1～4からすべて選び、番号で答えなさい。

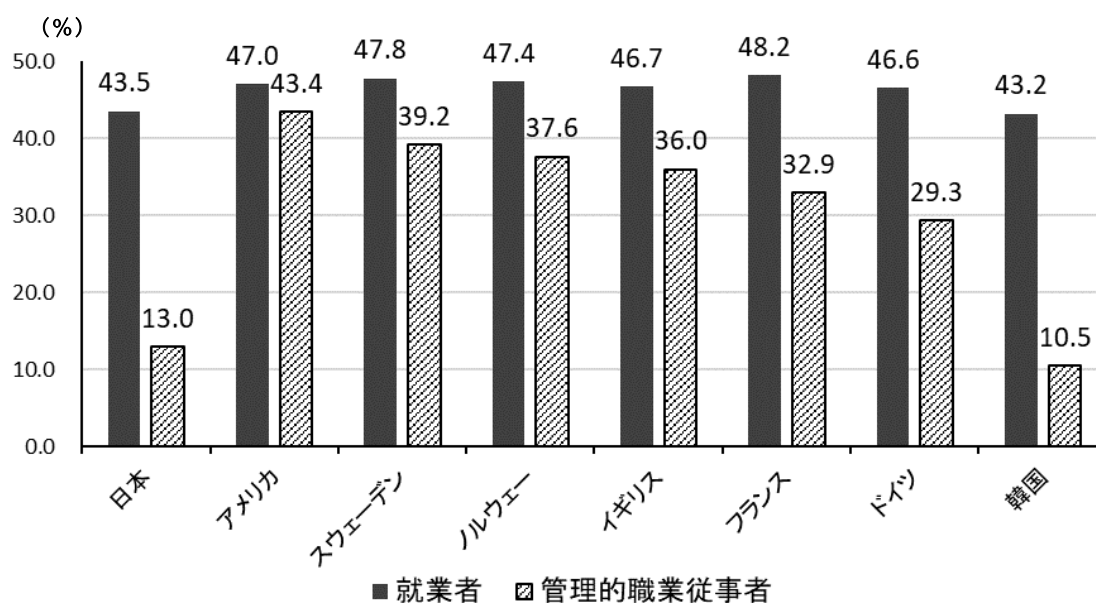
1. 言論・集会の自由
2. 健康で文化的な生活をする権利
3. 安楽死を選ぶ権利
4. 男女の平等

【資料Cについて】

問7 資料Cは、1979年に採択された「女子差別撤廃条約」から抜き出したものです。下線(オ)に関して、図1～図4(次ページ以降)を見て、以下の問いに答えなさい。

- (1) 日本では、他の先進国と比較し、男女の平等についてはどのようなことがいえますか。また、その原因として、どのようなことが考えられますか。図1～図4のすべてにふれて、説明しなさい。

(2) 日本で男女の平等が、より実現してゆくためには、どのようなことが必要ですか。あなたの考えを書きなさい。



備考 1. 総務省「労働力調査(基本集計)」(平成 28 年), その他の国はILO“ILOSTAT”より作成。
 2. フランス, スウェーデン, ノルウェー, イギリス及びドイツは 2016(平成 28)年, アメリカは 2013(平成 25)年, その他の国は 2015(平成 27)年の値。
 3. 総務省「労働力調査」では, 「管理的職業従事者」とは, 就業者のうち, 会社役員, 企業の課長相当職以上, 管理的公務員等。また, 「管理的職業従事者」の定義は国によって異なる。

図1 就業者及び管理的職業従事者に占める女性の割合 (国際比較)

(出典 内閣府 ホームページより作成)

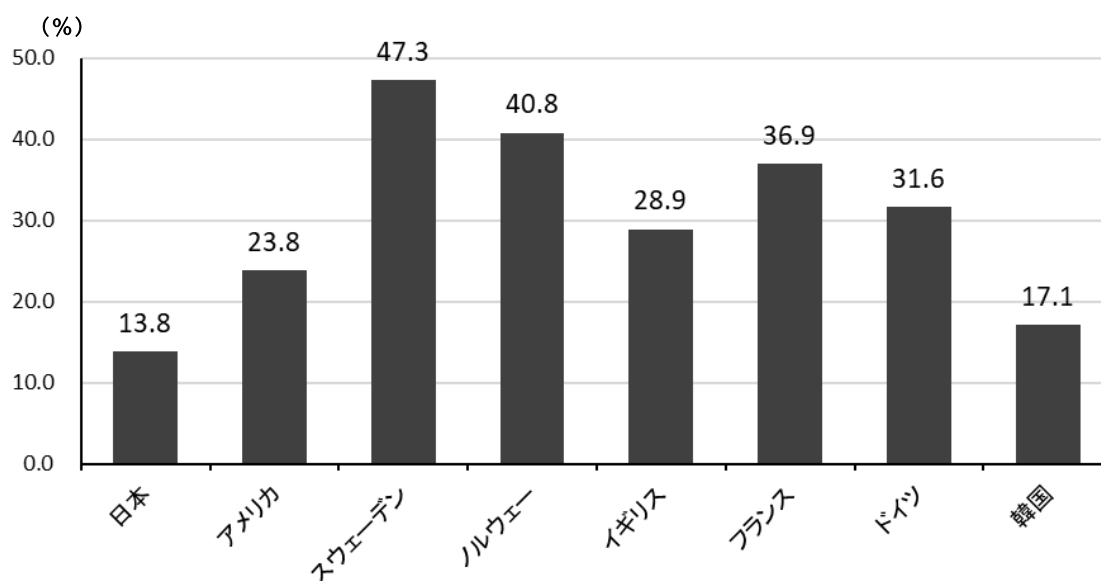


図2 国会議員における女性の割合 (2019年)

(出典 GLOBAL NOTE 2019 より作成)

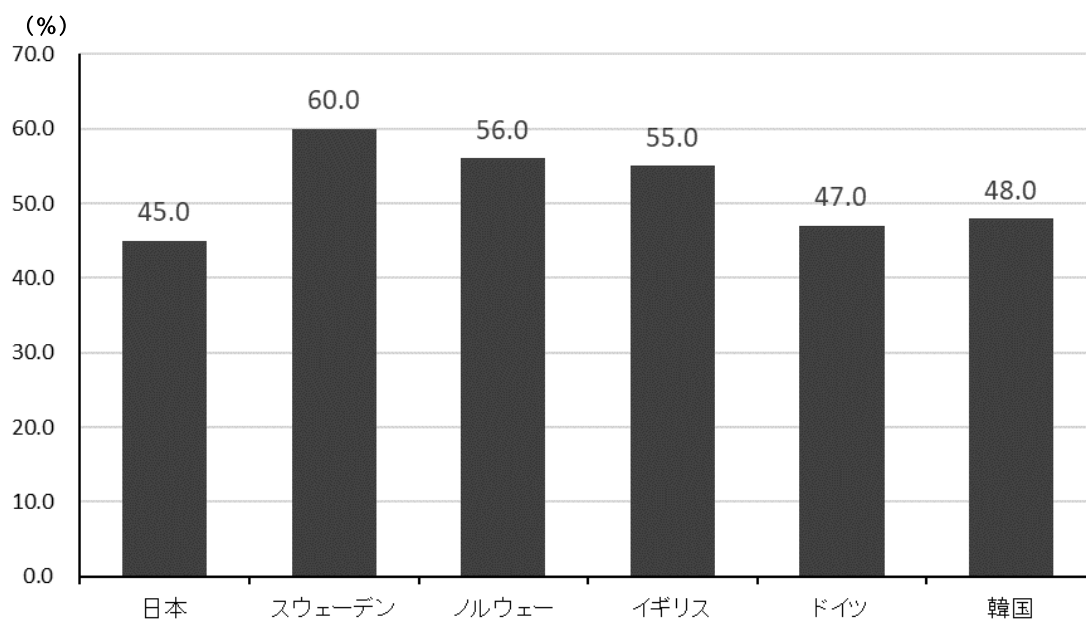


図3 大学入学者における女子の割合（2014年）

（出典 OECD資料（2016年）より作成）

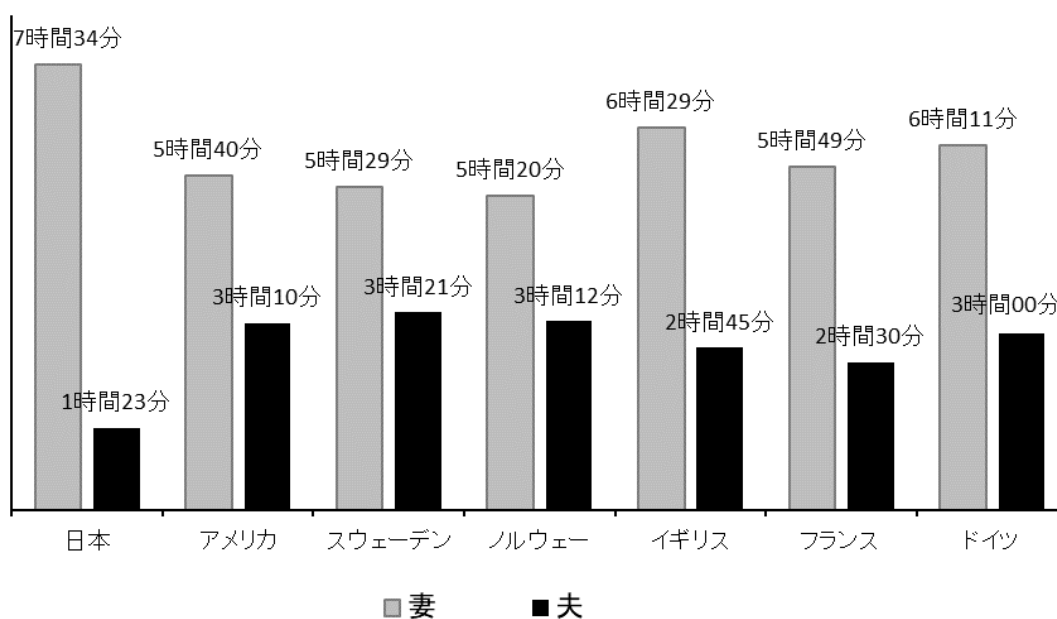


図4 妻と夫の1日の家事・育児時間

（出典 「平成28年社会生活基本調査」より作成）